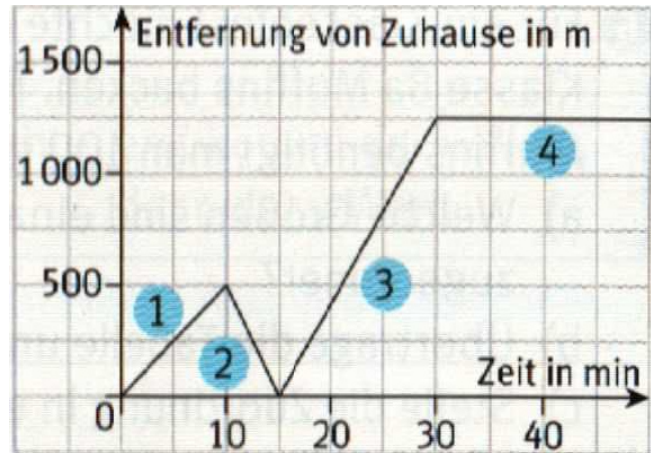


Schritt 5: Graphen beurteilen

1.) Der Verlauf eines Graphen soll beschrieben werden.

a) Worin unterscheiden sich Abschnitt 1 und 2 voneinander?



b) Beschreibe nun den Verlauf von Abschnitt 1 bis einschließlich Abschnitt 3.

Nutze die Begriffe **steigend** und **fallend**.

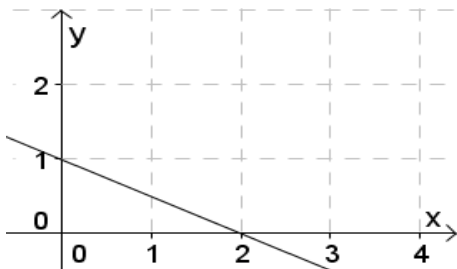
Im Abschnitt 1 verläuft der Graph _____.

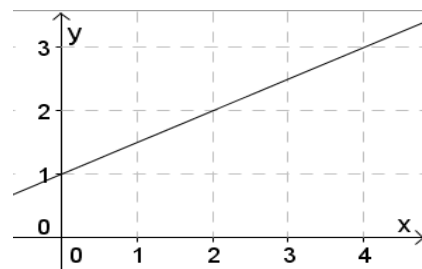
Im Abschnitt 2 _____.

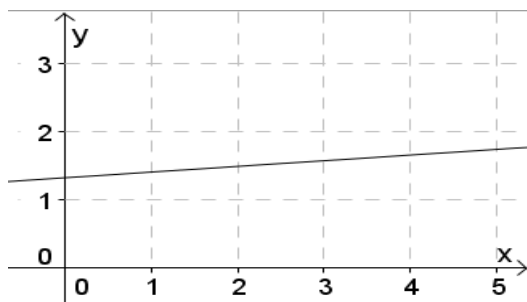
Im Abschnitt 3 _____.

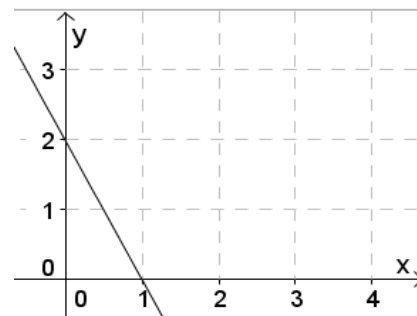
IM Abschnitt 4 verläuft der Graph konstant.

2.) Ordne nun die Begriffe steigend und fallend den entsprechenden Graphen zu.









3.) Beschreibe den nebenstehenden Graphen aus der Achterbahnaufgabe.

a) Unterteile den Graphen in passende Abschnitte.

Abschnitt 1 von 0-10s

Abschnitt 2 von _____

Abschnitt 3 von _____

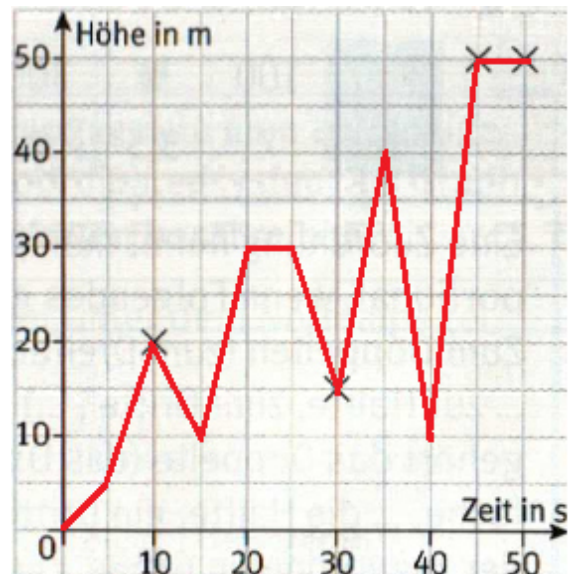
Abschnitt 4 von _____

Abschnitt 5 von _____

Abschnitt 6 von _____

Abschnitt 7 von _____

Abschnitt 8 von _____



b) Trage in die Tabelle die Nummer der Abschnitte ein in denen der Graph entsprechend verläuft.

	steigend	fallend	konstant
Abschnitt			

